

Все ответы занесите в БЛАНК ОТВЕТОВ

**ПРЕДМЕТНАЯ СЕКЦИЯ «КУЛЬТУРА БЕЗОПАСНОСТИ
ЖИЗНЕДЕЯТЕЛЬНОСТИ В СОВРЕМЕННОМ ОБЩЕСТВЕ»**

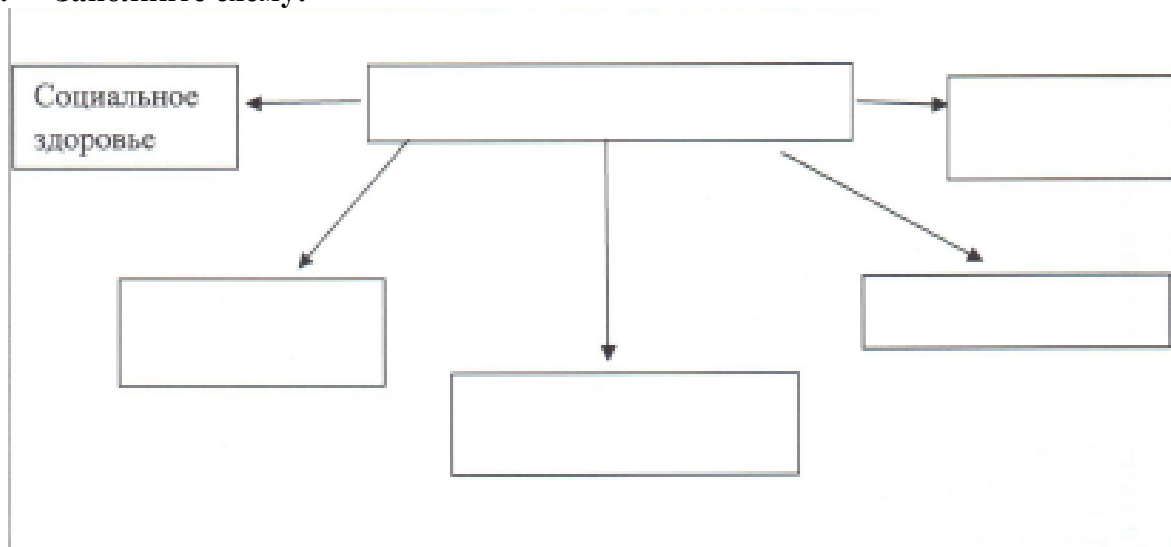
ЗАДАНИЕ 1 (максимальный балл - 30)

1.1. Дайте определение:

Здоровье –

Гигиена –

1.2. Заполните схему:



1.3. Заполните таблицу:

Соотнеси витамины и продукты. В бланке ответов в таблицу занесите цифру правильного ответа.

<i>Продукты</i>	<i>Витамины</i>
1. Сливочное масло, икра, молоко	С (аскорбиновая кислота)
2. Кефир, морковь, авокадо	Д
3. Лимон, черная смородина, киви	В1 (тиамин)
4. Гречневая и овсяная крупа, черный хлеб, зеленый горошек	А (ретинол)
5. Рыбий жир, яйца	В6

Оценочные баллы: максимальный – 30 баллов:


1.1. Каждое правильно данное определение- 5 баллов, итого 10 баллов.

1.2. Правильно заполненная схема – 10 баллов.

1.3. За каждое правильное соотнесение – 2 балла, итого 10 баллов.

ЗАДАНИЕ 2. (максимальный балл - 25)

Рассмотрите фотографии лесных ягод и заполните таблицу, вставив название ядовитых растений: Волчье лыко, Паслен, Красавка белладонна, Вороний глаз, Воронец колосистый.



Оценочные баллы: максимальный – 25 баллов.
Каждая правильно названная ягода - 5 баллов.

ЗАДАНИЕ 3. (максимальный балл - 30)

3.1. Разгадайте ребусы.

Какая опасность подстерегает человека, который заплыл за буйки?



Какая опасность может таиться на дне реки или озера, если нырять в не предназначенном для ныряния месте?

У = И



””



”

””

Не контролируемый процесс горения.











~~В~~ Ж

3.2. Распределите дорожные знаки по группам:

Запрещающие знаки: _____

Предупреждающие знаки: _____

Знаки приоритета: _____

			
1	2	3	4
			
5	6	7	8

Оценочные баллы: максимальный – 30 баллов:

Задание 3.1. Каждый правильно разгаданный 1 и 2 ребус по 5 баллов, 3 ребус – 4 балла.

Задание 3.2. Каждый правильно соотнесенный знак 2 балла, итого максимум 16 баллов.

Всероссийская олимпиада школьников 2025-2026 учебный год
Школьный этап. ОБЖ, 5-6 классы, **ЗАДАНИЯ, ТЕОРИЯ**
Время выполнения 45 мин. Максимальное кол-во баллов – 100

ТЕСТОВЫЕ ЗАДАНИЯ

№ п/п	Вопрос		ответы
1	Переходя улицу, необходимо быть: А) сильным, смелым, стройным Б) собранным, внимательным, осторожным В) умным, красивым, радостным	1	...
2	Сколько сигналов имеет светофор для пешеходов? А) один Б) два В) три Г) ни одного	1	...
3	При эвакуации из школы нужно обязательно... А) строго выполнять указания учителя Б) стараться спасти имущество В) тушить огонь, чтобы он не распространялся дальше	1	...
4	Что стоит сделать в первую очередь, если вы почувствовали запах газа в квартире? А) обеспечить приток воздуха в помещение Б) позвонить в экстренную службу В) перекрыть кран подачи газа Г) выключить все электроприборы	1	...
5	Какой перекресток называется регулируемым: А) на котором есть специальное объявление Б) на котором есть регулировщик или установлен светофор В) на котором нарисована зебра Г) каждый перекресток.	1	...
6	Днём создания Вооружённых Сил РФ считается А) 27 декабря 1991 года Б) 7 мая 1992 года В) 30 апреля 1999 года Г) 13 ноября 1990 года	1	...
7	Спасательные жилеты для подачи сигнала при крушении судна снабжены: А) свистком Б) сигнальной ракетой В) сигнальным зеркалом Г) фонариком Д) колокольчиком	1	...
8	При вызове службы безопасности сообщите следующие сведения: А) адрес соседей Б) адрес, объект (во дворе, в квартире, в подвале и т.д), номер дома, подъезда, квартиры, свою фамилию и телефон В) только причину обращения в службу безопасности Г) только номер дома	1	...
9	Травмы, при которых нарушена целостность кожи (слизистых оболочек), называются	1	...

	А) закрытыми Б) проникающими В) непроникающими Г) открытыми		
10	Где безопаснее находиться во время землетрясения? А) возле оконного проёма Б) в широком коридоре В) в узком коридоре Г) в центре комнаты Д) в дверном проёме	1	...
11	В октябре 1960 г. шесть кандидатов на первый полёт в космос приступили к занятиям на тренажёре космического корабля, названного так же, как и одна из сторон света. Как назывался космический корабль? А) «Запад» Б) «Север» В) «Восток» Г) «Юг»	1	...
12	Какой вид костра рекомендуется использовать только для ночёвки? А) «шалаш» Б) «пирамида» В) «колодец» Г) «полинезийский»	1	...
13	В состав опорно-двигательного аппарата входит: А) система кровообращения Б) костная и мышечная система В) сердечно-сосудистая система	1	...
14	Дополните фразу: «Ситуации, в которых нарушена или фактически невозможна нормальная жизнедеятельность большого количества людей на большой территории, называется _____» А) опасной Б) экстремальной В) обычной Г) чрезвычайной	1	...
15	Что необходимо предпринять при пищевом отравлении? А) следует прополоскать рот марганцовкой и плотно поесть Б) следует прополоскать рот пищевой содой и выпить крепкий сладкий чай с сухарями В) следует быстро удалить пищу из желудка: выпить несколько стаканов воды и вызвать рвоту (эффект двух пальцев) Г) выпить слабый раствор уксусной кислоты.	1	...

Оценочные баллы: максимальный – 15 баллов

Каждый правильный ответ оценивается в 1 балл.